



GOI MAILAKO HEZIKETA ZIKLOETARAKO SARBIDE PROBA
ARTEETAKO BERARIAZKO ZATIA
2023ko DEIALDIA

10/2023 EBAZPENA, otsailaren 9koa

2023-05-25

BOLUMENA

KALIFIKAZIOA

DEITURAK

IZENA

NANa

1.- ONDOKO BAIEZTAPEN HAUEK EGIK ALA GEZURRAK DIRA? 1,5 puntu

		E	G
1.1	Buztinez egindako lanak hezerik egosten dira, ez daitezen pitzatu.		
1.2	Molde galdu bat da kopia ateratzeko pikatu behar den molde bat.		
1.3	Hustuketa batean, anil-hautsa daraman geruza kopia-geruza deitzen da.		
1.4	Eskaiolaren gogortze prozesuari enkofratu deitzen zaio.		
1.5	Hustuketa da kopiak egiteko prozedura bat.		
1.6	Gramila da zura lantzeko balio duen tresna bat.		
1.7	Buztin egosia berrerabili daiteke berriz hidratatuz gero.		
1.8	Buztin freskoko bi pieza itsasteko buztin freskoa erabiltzen da.		
1.9	Modelatzea eransketako teknika bat da.		
1.10	Buztinezko lan baten molde galdu bat egiteko, lehor egon behar du.		
1.11	Zizelkatzea pasta bati forma ematea da, ore zatiak gehituz edo kenduz.		
1.12	Eskaiolaren tenperatura aldatu egiten da fraguatze prozesuan.		
1.13	Aurrerago landu ahal izateko, buztin freskoa gordetzeko modurik onena da argitik babestea.		
1.14	Eskaiola beti ur hotzarekin nahasi behar da.		
1.15	Sobera dugun eskaiola inoiz ez da hustubidean behera bota behar.		

GOI MAILAKO HEZIKETA ZIKLOETARAKO SARBIDE PROBA
ARTEETAKO BERARIAZKO ZATIA
2023ko DEIALDIA

10/2023 EBAZPENA, otsailaren 9koa

2023-05-25


2.- ZEIN KONTZEPTU ESKULTORIKOTAN BAT EGITEN DUTE HIRU ARTELAN HAUEK?

(puntu 1)



3.- BIRIBIL BATEKIN INGURA EZAZU ERANTZUN ZUZENA
FORMARI BEGIRATUTA; NOLA KALIFIKATUKO ZENUKE PIEZA
ESKULTORIKO HAU?

puntu 1

	a) ERREALISTA
	b) ABSTRAKTUA
	c) DINAMIKOA
	d) ITXIA
	e) ORGANIZISTA

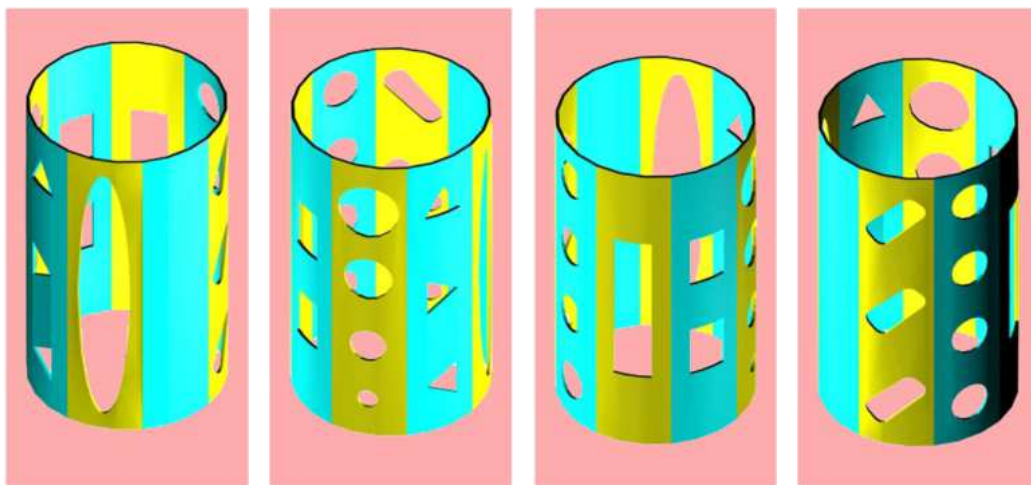
GOI MAILAKO HEZIKETA ZIKLOETARAKO SARBIDE PROBA
ARTEETAKO BERARIAZKO ZATIA
2023ko DEIALDIA

10/2023 EBAZPENa, otsailaren 9koa


2023-05-25

4.- ONDOKO MARRAZKIETAN ZILINDRO ERAKO HODI BATEN LAU BISTA
AGERTZEN DIRA. BISTEN ARTEAN 90º-ko TARTEA DAGO.

2 puntu



Hodian agertzen diren zuloak kokatu jarraian agertzen den zilindroaren garapenean.


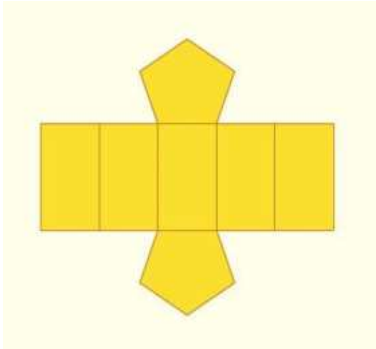
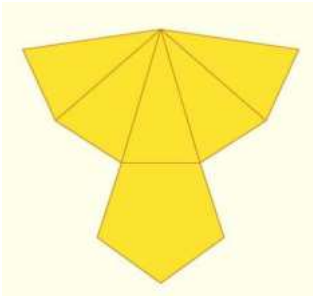


GOI MAILAKO HEZIKETA ZIKLOETARAKO SARBIDE PROBA
ARTEETAKO BERARIAZKO ZATIA
2023ko DEIALDIA

10/2023 EBAZPENA, otsailaren 9koa

2023-05-25


5.- HONAKO GARAPEN PLANOAK KONTUAN HARTUTA, ERAIKI ITZAZU
HORIETAKO BAKOITZARI DAGOZKION IRUDIAK: 2 puntu

GOI MAILAKO HEZIKETA ZIKLOETARAKO SARBIDE PROBA
ARTEETAKO BERARIAZKO ZATIA
2023ko DEIALDIA

10/2023 EBAZPENA, otsailaren 9koa

2023-05-25



GOI MAILAKO HEZIKETA ZIKLOETARAKO SARBIDE PROBA
ARTEETAKO BERARIAZKO ZATIA
2023ko DEIALDIA

10/2023 EBAZPENA, otsailaren 9koa

2023-05-25

6.- Bi objektuk edo gehiagok hainbat posizio izan dezakete eta horrek artelanaren egitura orokorra baldintzatzen du. Irudi hauetako bakoitza formen elkarrekiko posizio mota batekin loturik dago.

LOT EZAZU IRUDI BAKOITZA DAGOKION POSIZIO-ERLAZIOAREKIN. 1,5 puntu



A



B



C



D



E



F

EBAKETA		ERANSKETA	
GAINJARTZEA		KENKETA	
KONTAKTUA		URRUNTZEA	

GOI MAILAKO HEZIKETA ZIKLOETARAKO SARBIDE PROBA
ARTEETAKO BERARIAZKO ZATIA
2023ko DEIALDIA

10/2023 EBAZPENA, otsailaren 9koa

2023-05-25

7.- ARGIAK ETA ITZALAK BOLUMENAK MODELATZEN DITUZTE, ETA BOLUMENEN TRIDIMENSIONALTASUNA IKUSARAZTEN DIGUTE. HORI JAKINIK, TRIDIMENSIONAL BIHUR EZAZU EMANDAKO FORMA LAUA. *puntu 1*

